

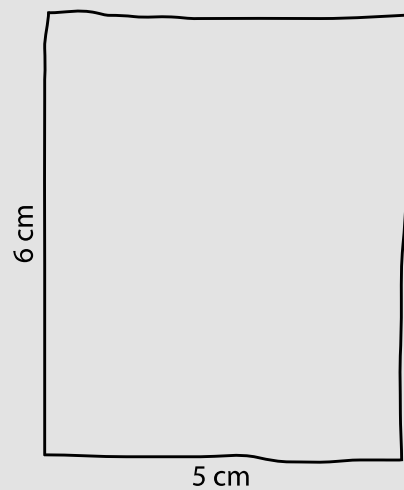
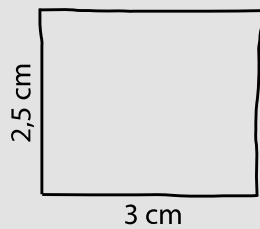
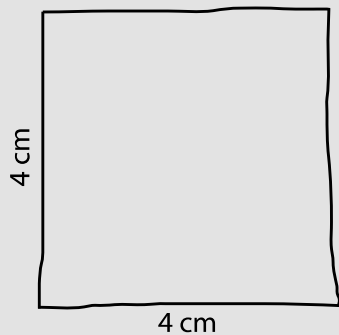
# VLOTJE 68

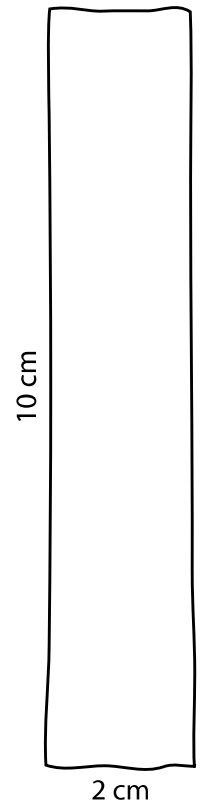
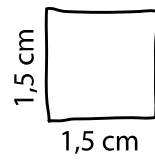
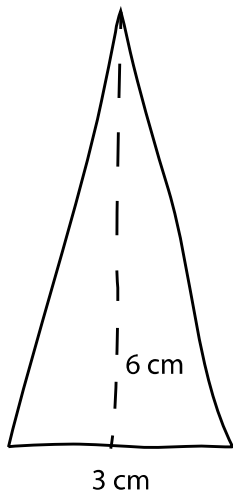
## IK KAN vlakke figuren tekenen.



1

Teken de volgende vlakke figuren nauwkeurig met je tekendriehoek.





**2****Teken.**

Teken in punt A een cirkel met de passer.  
De straal = 2 cm.

• A

**3****Teken wat gevraagd wordt.**

Wat?	Ik schets.	Ik teken nauwkeurig.
Teken een vierkant met zijde 2 cm.		
Teken een ongelijkzijdige driehoek met basis 5 cm.		
Teken een rechthoek met basis 5 cm en hoogte 3 cm.		
Teken een rechthoekige driehoek met basis en hoogte gelijk aan 4 cm.		